



DES OS POUR LES DINOS!!

Gagne un maximum d'os pour les lancer aux dinosaures et t'enfuir plus vite!!!



DES OS POUR



R LES DINOS!!

Gagne un maximum d'os pour les lancer aux dinosaures et t'enfuir plus vite!!!

44


45


43

42

46

41





41

47

40

48

39

49

38

50

28

37

36

35

29

30

34

31

33

32



Soixante-huit



Cinquante-trois



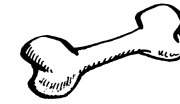
Soixante-douze



Quarante-deux



Soixante et un



Quatre-vingt-un



Trente-six



Trente-sept



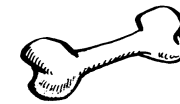
Vingt-quatre



Vingt-neuf



Cinquante-six



quinze



Trente-cinq



trente-trois



Soixante et onze



Cinquante-huit



Soixante-seize



Quarante huit



Vingt-deux



cinquante



Quarante-quatre



soixante



soixante- six



Treize



Vrai ou faux???

$$\begin{array}{r} 23 \\ + 31 \\ \hline 54 \end{array}$$



Vrai ou faux???

$$\begin{array}{r} 13 \\ + 30 \\ \hline 22 \end{array}$$



Vrai ou faux???

$$\begin{array}{r} 17 \\ + 20 \\ \hline 37 \end{array}$$



Vrai ou faux???

$$\begin{array}{r} 33 \\ + 11 \\ \hline 44 \end{array}$$



Vrai ou faux???

$$\begin{array}{r} 20 \\ + 30 \\ \hline 50 \end{array}$$



Vrai ou faux???

$$\begin{array}{r} 30 \\ + 35 \\ \hline 65 \end{array}$$



Vrai ou faux???

$$\begin{array}{r} 44 \\ + 11 \\ \hline 55 \end{array}$$



Vrai ou faux???

$$\begin{array}{r} 13 \\ + 39 \\ \hline 21 \end{array}$$



Vrai ou faux???

$$\begin{array}{r} 10 \\ + 20 \\ \hline 30 \end{array}$$



Vrai ou faux???

$$\begin{array}{r} 32 \\ + 31 \\ \hline 63 \end{array}$$



Vrai ou faux???

$$\begin{array}{r} 25 \\ + 31 \\ \hline 54 \end{array}$$



Vrai ou faux???

$$\begin{array}{r} 36 \\ + 21 \\ \hline 57 \end{array}$$





Vrai ou faux???

40

+ 31

55



Vrai ou faux???

3

+ 30

21



Vrai ou faux???

27

+ 20

47



Vrai ou faux???

33

+ 31

64



Vrai ou faux???

10

+ 10

20



Vrai ou faux???

10

+ 15

25



Vrai ou faux???

24

+ 11

35



Vrai ou faux???

18

+ 39

41



Vrai ou faux???

10

+ 40

30



Vrai ou faux???

14

+ 15

29



Vrai ou faux???

12

+ 23

35



Vrai ou faux???

16

+ 21

37





$$30-10=$$



$$20+20=$$



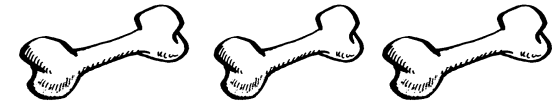
$$20-10=$$



$$20+30=$$



$$40-10=$$



$$50-20=$$



$$25-10=$$



$$20+10=$$



$$10-10=$$



$$10+10=$$



$$50+10=$$



$$30+10=$$



$$10+30=$$



$$60+20=$$



$$50-10=$$



$$30+30=$$



$$40-30=$$



$$40-20=$$



$$35-10=$$



$$25+10=$$



$$15-10=$$



$$15+10=$$



$$55+10=$$



$$35+10=$$



**Papa achète 20 bonbons et il m'en donne 10 .
Combien lui en reste t-il?**



Maman a fait 4 tartes aux pommes, 3 tartes aux poires et 5 tartes au chocolat. Combien y a-t-il de tartes en tout?



**Dans le jardin j'ai planté 10 roses et 5 tulipes.
Combien y a-t-il de fleurs finalement?**



**J'avais 10 bons points mais j'en ai perdu 6.
Combien m'en reste t-il?**



**A la piscine nous étions 23 enfants et 5 adultes.
Combien étions nous en tout?**



Dans l'école il y a 8 classes de maternelle et 7 classes de primaire. Combien y a-t-il de classes?



J'ai eu 25 billes par ma mamie, j'en ai perdu 5 dans la cour, combien en ai-je désormais?



Dans notre case nous avons 8 petits cahiers et 5 grands. Combien en avons-nous en tout?



**En début d'année nous étions 23 mais deux élèves sont partis.
Combien sommes nous?**



A Noël j'ai reçu 20€ par mon parrain et 10€ par mon papi. Combien ai-je dans ma tirelire?



Sur le pommier il y avait 20 pommes mais 8 sont tombées. Combien en reste t-il sur l'arbre?



Maman a 10 grandes assiettes et 12 petites. Combien en possède t-elle?



Pour ma console j'ai 5 jeux et j'en ai eu 3 pour mon anniversaire en plus. Combien en ai je?



Dans la famille nous sommes 4 garçons et 6 filles. Combien sommes nous d'enfants?



Dans ma rue il y a 15 maisons et 5 sont en Construction. Combien y en aura-t-il bientôt?



J'ai 5 paires de chaussures et deux paires de baskets. Combien ai-je de paires?



Dans un jeu de cartes il y a 32 cartes si je retire les 4 as, combien en reste t-il?



Pour le goûter la maîtresse a acheté 2 paquets de 10 biscuits, combien y a-t-il de biscuits?



J'ai dans ma poche 10 billes et dans ma main 5 billes, combien en ai je?



Dans ma trousse j'ai 5 stylos et dans mon cartable j'ai 4 stylos, combien en ai-je en tout?



Pour mon anniversaire j'ai invité 10 copains de l'école et 6 copains du quartier. Combien sommes nous?



Dans le panier de maman il y a 5 salades et 4 courgettes, combien a-t-elle de légumes?



Chaque matin je mange 3 tartines, au bout de 3 jours, combien en ai-je mangé?



A la patinoire il y a 12 garçons et 15 filles. Combien y a-t-il d'enfants qui patinent?